



همگام با

دوم دبستان

آبان ماه

تاریخ: / /

ارزشیابی ماهانه ریاضی دوم دبستان

نام زیبای من:

۱- با دو کارت عدد ۴ و ۸ هر چند تا عدد ۲ رقمی که می توانید بنویسید .

۲- محمد ۲۴ عدد کتاب دارد . اگر او ۱۱ کتاب علمی داشته باشد چند کتاب غیر علمی دارد ؟ (با رسم شکل)

۳- الگوهای شمارش را کامل کنید .

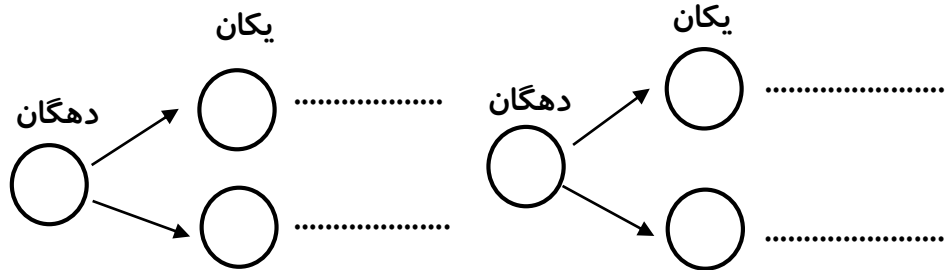
۴ ، ، ، ، ۲۰ ، ۲۴

۷ ، ، ، ۲۸

۴- همه ی عدد های ۲ رقمی را که می توان با رقم های ۵ و ۲ برای یکان ۴ و ۹ برای دهگان نوشت را بنویسید .

دهگان	یکان

(از روش درختی و جدول ارزش مکانی استفاده کنید)



۵- حاصل جمع و تفریق زیر را بنویسید .

$$\begin{array}{r} 17 \\ + 24 \\ \hline \end{array}$$

$$\begin{array}{r} 43 \\ - 27 \\ \hline \end{array}$$

۶- مشخص کنید عدد ۳۷ به ۳۰ نزدیک تر است یا به ۴۰ ؟

مشخص کنید عدد ۵۲ به نزدیک تر است یا به ؟

۷ - جواب جمع و تفریق را به صورت تقریبی به دست بیاورید .

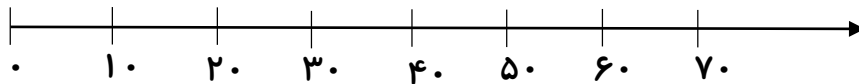
$$\begin{array}{r} 53 \longrightarrow \dots\dots\dots \\ + 29 \longrightarrow + \dots\dots\dots \\ \hline \end{array}$$

$$\begin{array}{r} 81 \longrightarrow \dots\dots\dots \\ - 37 \longrightarrow - \dots\dots\dots \\ \hline \end{array}$$

۸ - جواب جمع و تفریق زیر را از روی محور به دست آورید . (با دو رنگ مختلف)

$40 + 20 =$

$50 - 20 =$



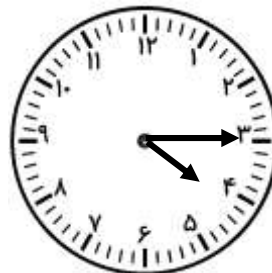
۹ - عدد های ۱۷ ، ۲۵ و ۳۲ را با مداد رنگی روی محور اعداد زیر مشخص کنید .



۱۰ - ساعت را کامل کنید .



ساعت ۹ و ۲۰ دقیقه را نشان بده .



ساعت است .

خیر	تا حدودی	بله	ارزیابی آموزگار
			با کارت اعداد می تواند عدد دو رقمی بسازد .
			مسئله را با رسم شکل حل می کند .
			الگوی عددی را می داند .
			ارزش مکانی عدد را می داند و می تواند عدد دو رقمی بسازد .
			جمع و تفریق دو رقمی را می داند .
			تقریب اعداد را می داند .
			می تواند عدد خواسته شده را روی محور نشان دهد .
			ساعت را می داند .
			جمع و تفریق تقریبی اعداد را می داند .