




مهر ماه

تاریخ: / /

ارزشیابی ماهانه ریاضی دوم دبستان

نام زیبای من:

۱ - فرزندانم، تعداد شکل های خواسته شده را بنویس و چوب خط مربوط به آن را بکش.



سیب		موز		انار	
عدد	چوب خط	عدد	چوب خط	عدد	چوب خط

۲ - نازنینم جاهای خالی را کامل کن.

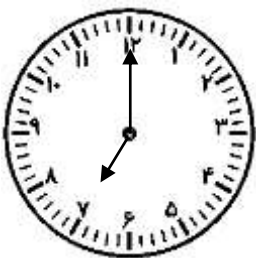
از کمتر به بیشتر بنویس. ۹ - ۷۱ - ۵۶ - ۳۳ - ۸۱ - ۴۹

از بیشتر به کمتر بنویس. ۸۰ - ۲۲ - ۹۸ - ۱۵ - ۶۶ - ۳۷

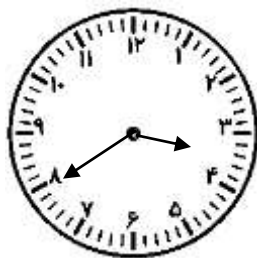
۳ - عدد های قبل و بعد را بنویس.

..... - ۷۶ - - - - - ۷۱ -

۴ - ساعت های خواسته شده را بنویس.



ساعت:



ساعت از چند گذشته؟




ساعت به چند مانده؟

۵ - عزیزم الگوهای زیر را ادامه بده.

..... - - - - ۴۰ - ۳۰ - ۲۰

..... - - - - ۱۲ - ۸ - ۴

۶- حمید ۲۴ شکلات داشت ۱۲ شکلات را به خواهرش داد ، حالا حمید چند شکلات دارد ؟ با هر روشی که دوست دارید حل کنید (رسم شکل ، محور ، چوب خط)



۷- شکل زیر را به عدد و حروف و در جدول بنویس .

به عدد :

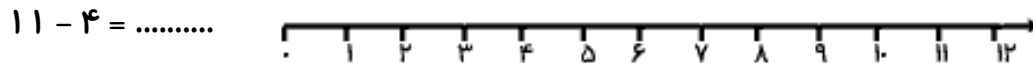
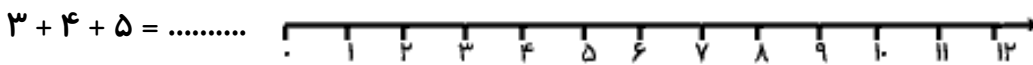
به حروف :

ده تایی	یکی
---------	-----

۸- با رقم های ۸ و ۰ و ۲ هر چند تا عدد دو رقمی می توان نوشت بنویس .

.....

۹- حاصل جمع و تفریق زیر را روی محور نشان بده .



۱۰- حاصل جمع های زیر را بنویس .

$5 + 5 + 40 + 30 = \dots\dots\dots$

$40 + 5 + 20 + 5 - 4 = \dots\dots\dots$

خیر	تا حدودی	بله	ارزیابی آموزگار
			عدد مربوط به تعداد هر شکل را می نویسد و چوب خط آن را می کشد .
			ترتیب اعداد از کمتر به بیشتر و بیشتر به کمتر را می داند .
			قبل و بعد اعداد را می داند .
			ساعت خواسته شده را می نویسد .
			الگوی اعداد را ادامه می دهد .
			می تواند دسته بندی کند و عدد بدست آمده را هم به عدد و هم به حروف می نویسد .
			با رقم های داده شده می تواند عدد دو رقمی بسازد .
			حاصل جمع و تفریق را بدست می آورد .
			در حل مسئله موفق است .