

مرور و تمرین



# ساعت



قسمت

اول

ساعت ها شکل های مختلفی دارند.  
(دایره ، مربع ، مثلث و ...)  
بعضی از آن ها دارای عقربه و بعضی  
دیجیتالی هستند.



در ساعت های عقربه دار ، **عقربه ی کوچک** نشان دهنده ی **ساعت** و **عقربه ی بزرگ** نشان دهنده ی **دقیقه** است.



بعضی ساعت ها دارای ۳ عقربه هستند مثل ساعت رو به رو . عقربه ی سوم که نازک تر از دو عقربه ی دیگر است (عقربه ی قرمز) ، نشان دهنده ی ثانیه است.

در همه ی دنیا ساعت ها از عدد های ۱ تا ۱۲ تشکیل شده اند و ۶۰ دقیقه طول می کشد تا یک ساعت کامل شود.  
عدد های زیر بیانگر ساعت و هر کدام از خط های کوچک زیر بیانگر ۱ دقیقه هستند.



بین هر دو عدد  
(خط های قرمز) به  
۵ قسمت مساوی  
تقسیم شده است.

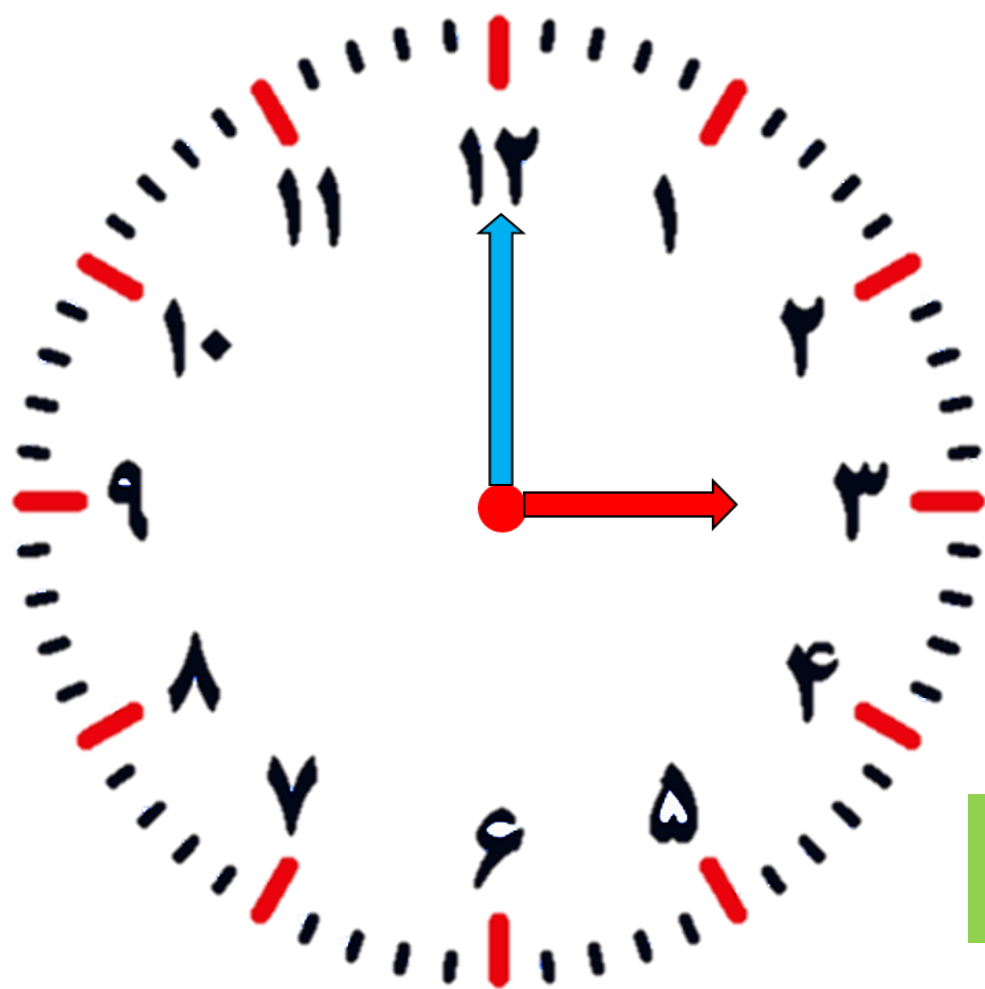
عقربه ی کوتاه تر  
ساعت شمار

عقربه ی بلند تر  
دقیقه شمار

# ساعت کامل :



وقتی عقربه ی بزرگ (دقیقه شمار) روی عدد ۱۲ باشد ، ساعت کامل است .

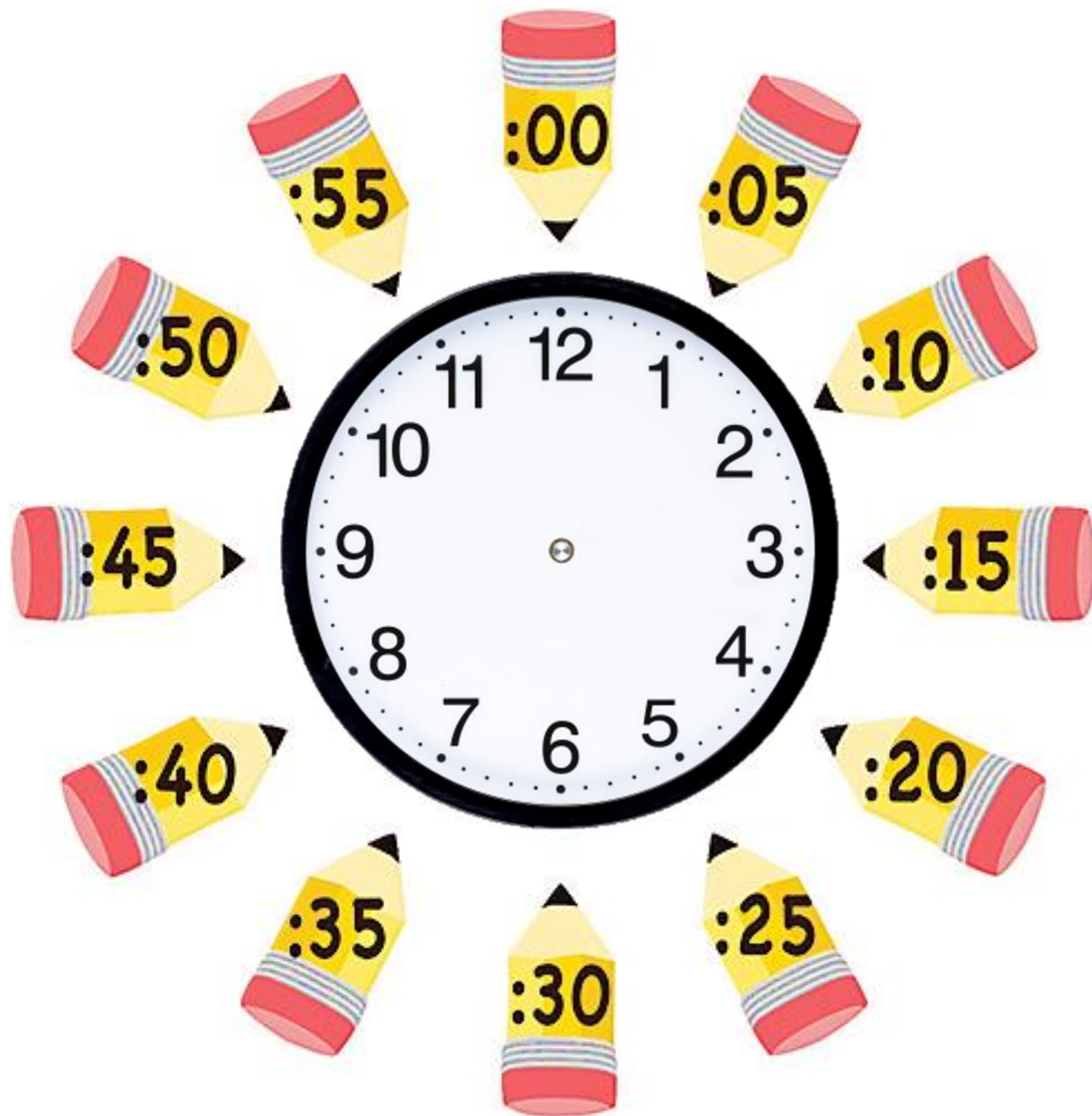


۳ : ۰۰



ساعت ۳ تمام است.

# عدد های بیرونی بیانگر دقیقه هستند.





همگام با  
دوم دبستان

ساعت  
تمام

۵ دقیقه گذشته

۵ دقیقه مانده

۱۰ دقیقه گذشته

۱۰ دقیقه مانده

۱۵ دقیقه  
گذشته

۱۵ دقیقه  
مانده

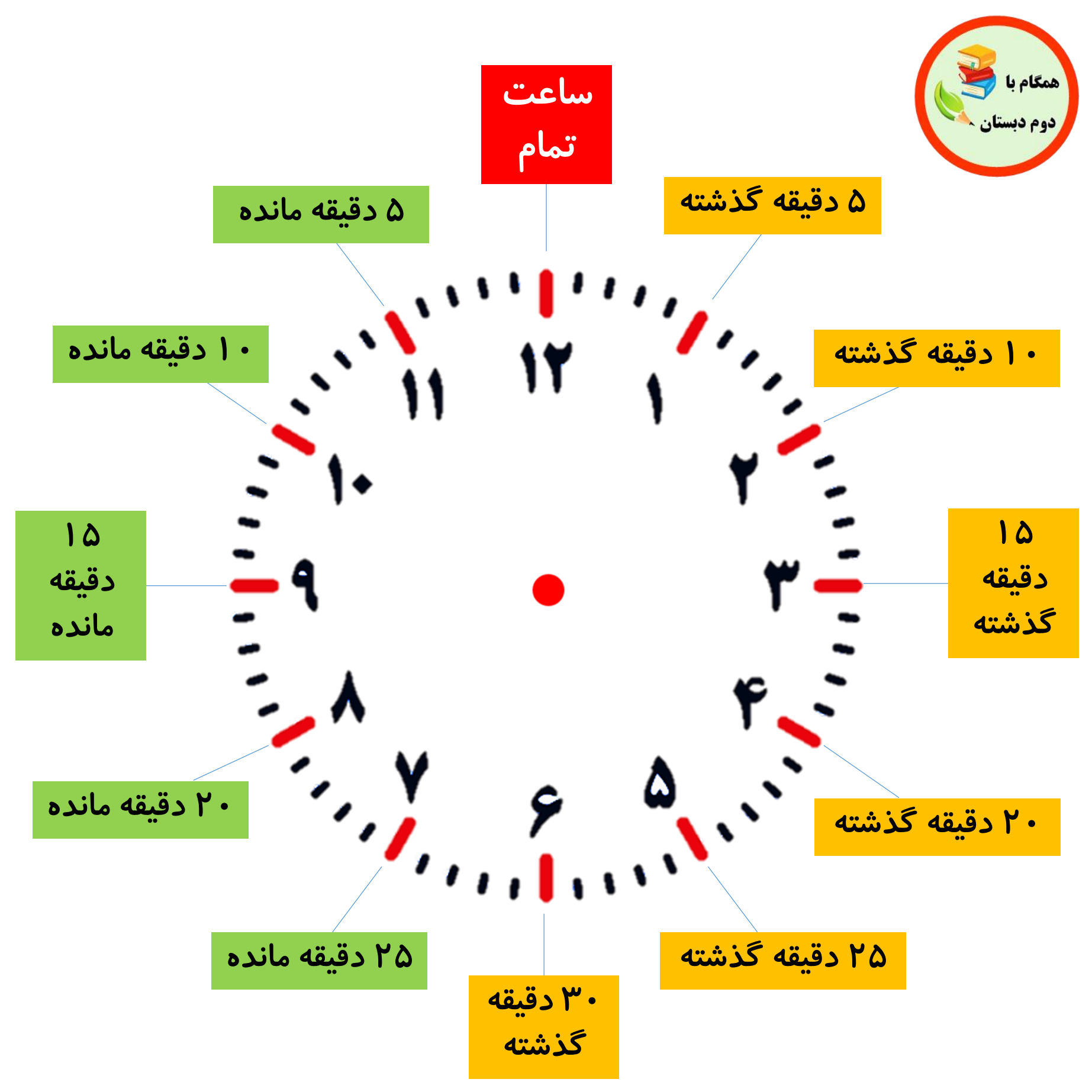
۲۰ دقیقه گذشته

۲۰ دقیقه مانده

۲۵ دقیقه گذشته

۲۵ دقیقه مانده

۳۰ دقیقه  
گذشته



به صورت های مختلف  
می توانیم ساعت را بنویسیم.



ساعت  
تمام

۵ دقیقه مانده

۵ دقیقه گذشته

۱۰ دقیقه مانده

۱۰ دقیقه گذشته

۱۵  
دقیقه  
مانده

۱۵  
دقیقه  
گذشته

۲۰ دقیقه مانده

۲۰ دقیقه گذشته

۲۵ دقیقه مانده

۲۵ دقیقه گذشته

۳۰ دقیقه  
گذشته

۴ : ۱۰

ساعت ۱۰ دقیقه از ۴  
گذشته است.

ساعت چهار و ده دقیقه است.





# حالا تو بگو :



.... : ....

.....



.... : ....

.....



.... : ....

.....

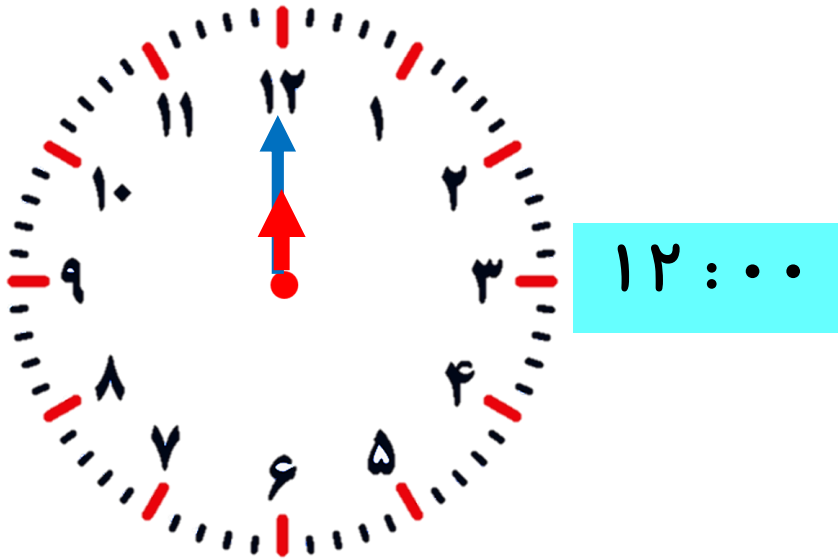


.... : ....


.....



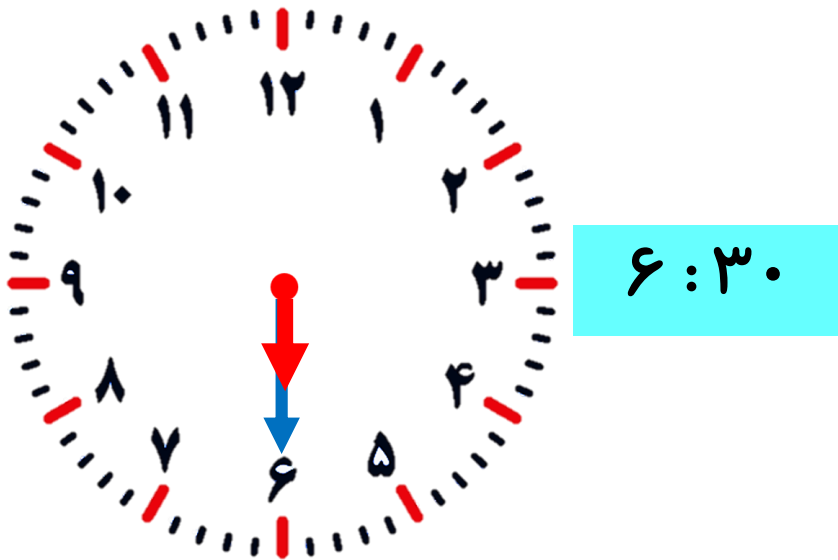
# حالا تو بگو :



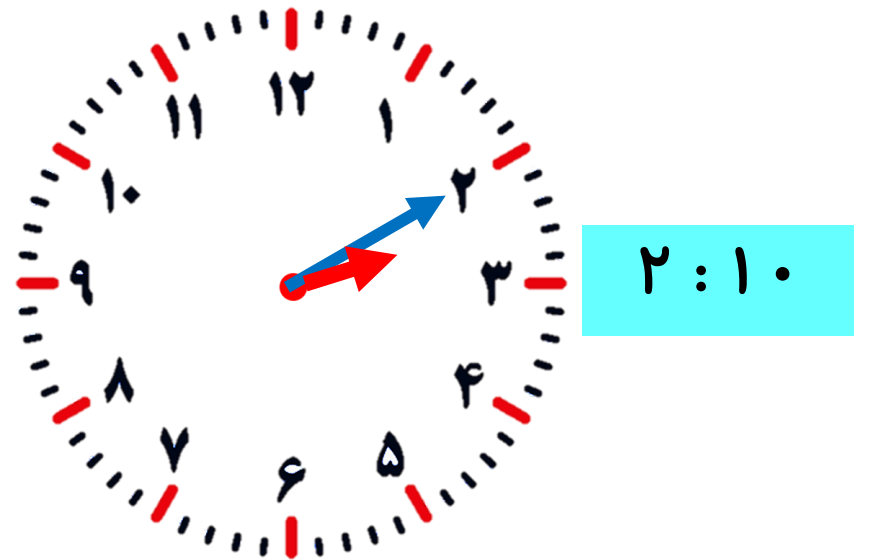
ساعت ۱۲ تمام است.



ساعت ۲۵ دقیقه مانده به ۱ است.



ساعت ۳۰ دقیقه از ۶ گذشته است.



ساعت ۱۰ دقیقه از ۲ گذشته است.