

مرور و تمرین



و


جمع



تفريق

قسمت
اول


به علامت های زیر و معنی هر کدام توجه کنید .



علامت مساوی

=

به معنی برابر بودن است و در پایان عبارت های جمع و تفریق قرار می گیرد و بعد از آن جواب را می نویسیم.



علامت منها (تفریق)

-

به معنی کم کردن است و هرگاه بین دو عدد قرار گیرد باید آن دو عدد را از هم کم کنیم.



علامت جمع

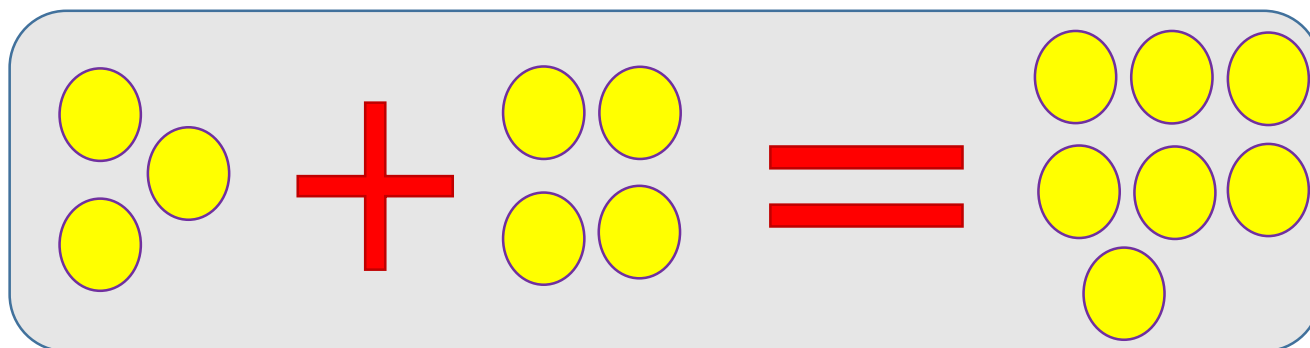
+

به معنی اضافه کردن است و هرگاه بین دو عدد قرار گیرد باید آن دو عدد را با هم جمع کنیم.

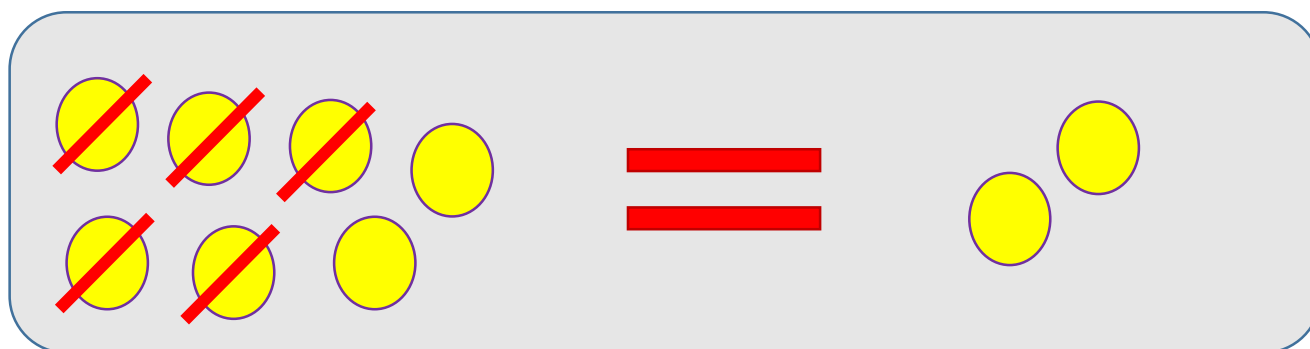
برای مثال :



$$۳ + ۴ = ۷$$



$$۷ - ۵ = ۲$$



برای جمع و تفریق روش های مختلفی وجود دارد
به چند روش پایین توجه کنید :



جمع و
تفریق با
انگشتان
دست



$$5 + 3 = 8$$

$$10 - 2 = 8$$

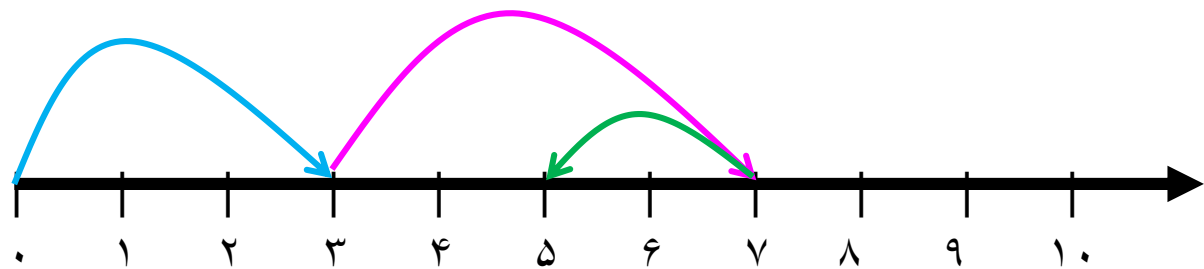
جمع و
تفریق با
چوب
خط



$$5 + 6 = 11$$

$$11 - 5 = 6$$

جمع و
تفریق با
محور
اعداد



$$3 + 4 - 2 = 5$$

جمع و تفریق های زیر را با کمک انگشتان دست
انجام دهید :



$$7 + 2 =$$

$$5 - 2 =$$

$$5 + 5 =$$

$$10 - 6 =$$

$$1 + 6 =$$

$$9 - 4 =$$

$$10 + 4 =$$

$$8 - 6 =$$

جمع و تفریق های زیر را با کمک **چوب خط**
انجام دهید :



$$۱۳ + ۵ =$$

$$۱۵ - ۶ =$$

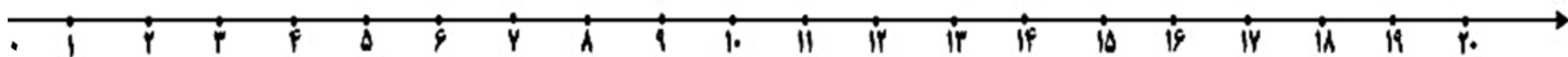
$$۹ + ۸ =$$

$$۲۱ - ۹ =$$

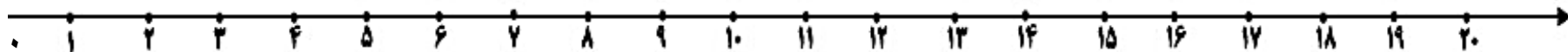
جمع و تفریق زیر را با کمک محور
انجام دهید :



$$۱۴ + ۵ =$$



$$۱۹ - ۱۱ + ۳ =$$



جمع و تفریق های زیر را با کمک انگشتان دست
انجام دهید :



$$7 + 2 = 9$$

$$5 - 2 = 3$$

$$5 + 5 = 10$$

$$10 - 6 = 4$$

$$1 + 6 = 7$$

$$9 - 4 = 5$$


$$10 + 4 = 14$$

$$8 - 6 = 2$$

جمع و تفریق های زیر را با کمک
چوب خط
انجام دهید :



$$۱۳ + ۵ = ۱۸$$




$$۱۵ - ۶ = ۹$$



$$۹ + ۸ = ۱۷$$



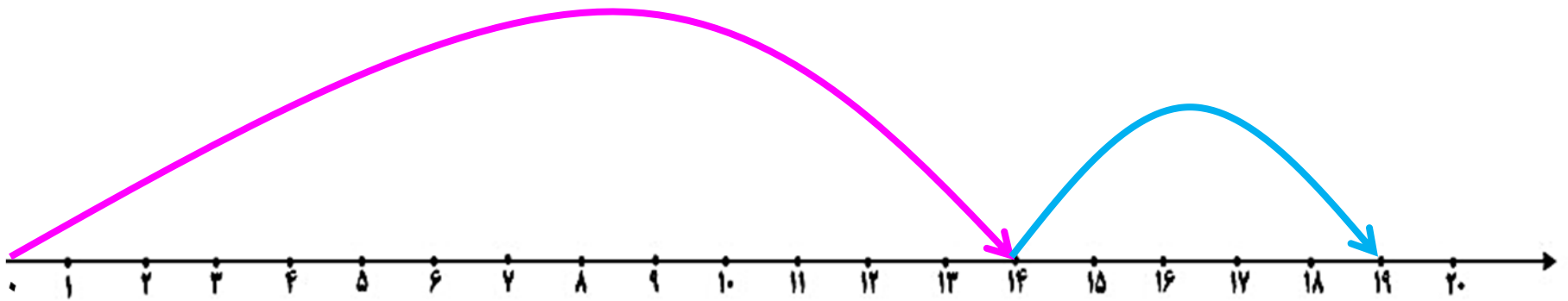
$$۲۱ - ۹ = ۱۲$$



جمع و تفریق زیر را با کمک محور
انجام دهید :



$$۱۴ + ۵ = ۱۹$$



$$۱۹ - ۱۱ + ۳ = ۱۱$$

